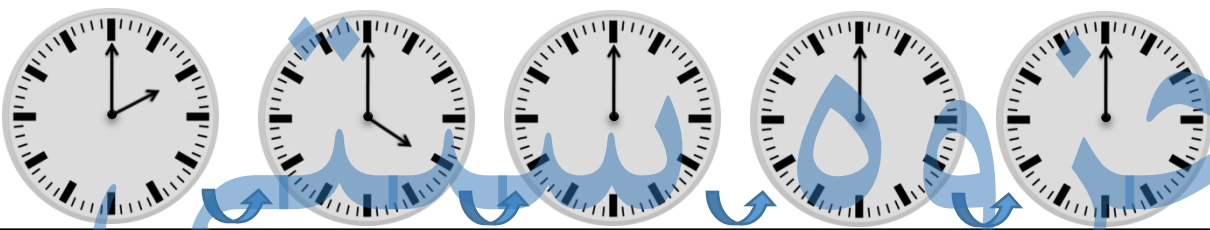
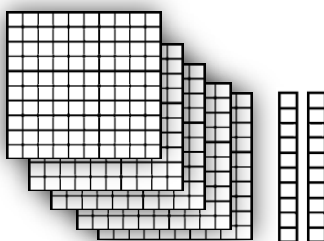

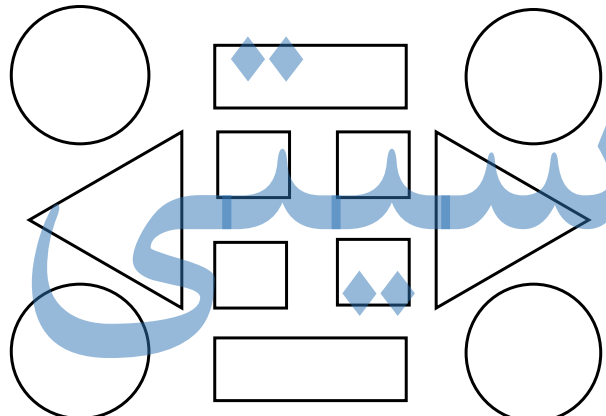
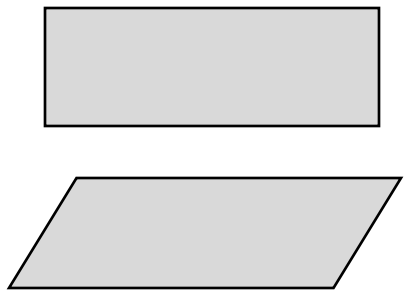


ریاضی

	<p>۱ عددهای دو رقمی بنویسید که یکان آن ها ۴۰۲ و دهگان آن ها ۸۰۵ باشد.</p> <p style="text-align: center;"> <input type="text"/> <input type="text"/> <input type="text"/> <input type="text"/> </p>	۱																								
	<p>۲ جاهای خالی را با توجه به الگوی آن ها پر کنید.</p> <p>۱۷ - ۱۸ - ۱۹ - <input type="text"/> - <input type="text"/> - <input type="text"/> - <input type="text"/> - <input type="text"/></p> <p><input type="text"/> - <input type="text"/> - <input type="text"/> - <input type="text"/> سی و شش - سی و هفت - سی و هشت - سی و نهم</p> <p>۵۵ - ۵۸ - ۶۰ - <input type="text"/> - <input type="text"/> - <input type="text"/> - <input type="text"/></p>	۲																								
	<p>۳ الگوی زیر با کشیدن عقربه نشان بدهید.</p> 	۳																								
	<p>۴ جمع و تفریق های زیر با استفاده از روش گسترده نویسی حساب کنید.</p> <table style="width: 100%; text-align: center;"> <tr> <td style="width: 25%;">۴۶</td> <td style="width: 25%;">۲۴</td> <td style="width: 25%;">۶۷</td> <td style="width: 25%;">۲۰</td> </tr> <tr> <td>- ۱۶</td> <td>+ ۲۴</td> <td>- ۳۰</td> <td>+ ۲۹</td> </tr> <tr> <td>-----</td> <td>-----</td> <td>-----</td> <td>-----</td> </tr> <tr> <td>-----</td> <td>-----</td> <td>-----</td> <td>-----</td> </tr> </table>	۴۶	۲۴	۶۷	۲۰	- ۱۶	+ ۲۴	- ۳۰	+ ۲۹	-----	-----	-----	-----	-----	-----	-----	-----	۴								
۴۶	۲۴	۶۷	۲۰																							
- ۱۶	+ ۲۴	- ۳۰	+ ۲۹																							
-----	-----	-----	-----																							
-----	-----	-----	-----																							
	<p>۵ عدد مربوط به هر شکل را به عدد و حروف بنویسید</p> <div style="display: flex; justify-content: space-between;"> <div style="width: 30%;">   </div> <div style="width: 60%;"> <table style="width: 100%; border-collapse: collapse;"> <tr> <td style="width: 33%; text-align: center;">یکان</td> <td style="width: 33%; text-align: center;">دهگان</td> <td style="width: 33%; text-align: center;">صدگان</td> <td style="width: 30%;"></td> </tr> <tr> <td style="border: 1px solid black; height: 40px;"></td> <td style="border: 1px solid black; height: 40px;"></td> <td style="border: 1px solid black; height: 40px;"></td> <td style="border: 1px solid black; height: 40px;"></td> </tr> </table> <table style="width: 100%; border-collapse: collapse;"> <tr> <td style="width: 33%; text-align: center;">یکان</td> <td style="width: 33%; text-align: center;">دهگان</td> <td style="width: 33%; text-align: center;">صدگان</td> <td style="width: 30%;"></td> </tr> <tr> <td style="border: 1px solid black; height: 40px;"></td> <td style="border: 1px solid black; height: 40px;"></td> <td style="border: 1px solid black; height: 40px;"></td> <td style="border: 1px solid black; height: 40px;"></td> </tr> </table> <table style="width: 100%; border-collapse: collapse;"> <tr> <td style="width: 33%; text-align: center;">یکان</td> <td style="width: 33%; text-align: center;">دهگان</td> <td style="width: 33%; text-align: center;">صدگان</td> <td style="width: 30%;"></td> </tr> <tr> <td style="border: 1px solid black; height: 40px;"></td> <td style="border: 1px solid black; height: 40px;"></td> <td style="border: 1px solid black; height: 40px;"></td> <td style="border: 1px solid black; height: 40px;"></td> </tr> </table> </div> </div>	یکان	دهگان	صدگان						یکان	دهگان	صدگان						یکان	دهگان	صدگان						۵
یکان	دهگان	صدگان																								
یکان	دهگان	صدگان																								
یکان	دهگان	صدگان																								

	<p>۶ به عدد یا حروف بنویسید</p> <p>دویست و دوازده ۵۴۶</p> <p>۱۰۵ چهارصد بیست و دو</p>
	<p>۷ هر کدام از اعداد داده شده به کدامیک نزدیک تر است؟ داخل آن را رنگ بزنید</p> <p>۲۰ ← ۲۴ → ۳۰</p> <p>۲۵۰ ← ۲۵۷ → ۲۶۰</p> <p>۱۰۰ ← ۱۲۸ → ۲۰۰</p>
	<p>۸ شکل های زیر را طبق راهنما رنگ بزنید.</p>  <p>قرمز → مربع</p> <p>آبی → مستطیل</p> <p>زرد → مثلث</p> <p>سبز → دایره</p>
	<p>۹ تفاوت و شباهت های شکل های زیر را بنویسید.</p>  <p>تفاوت:</p> <p>شباهت:</p>

ارزشیابی آموزگار

خیلی خوب
 خوب
 قابل قبول
 نیاز به تلاش بیشتر